

# 令和2年度 東京都立豊島高等学校

## 推薦に基づく選抜

### 小論文

#### 注 意

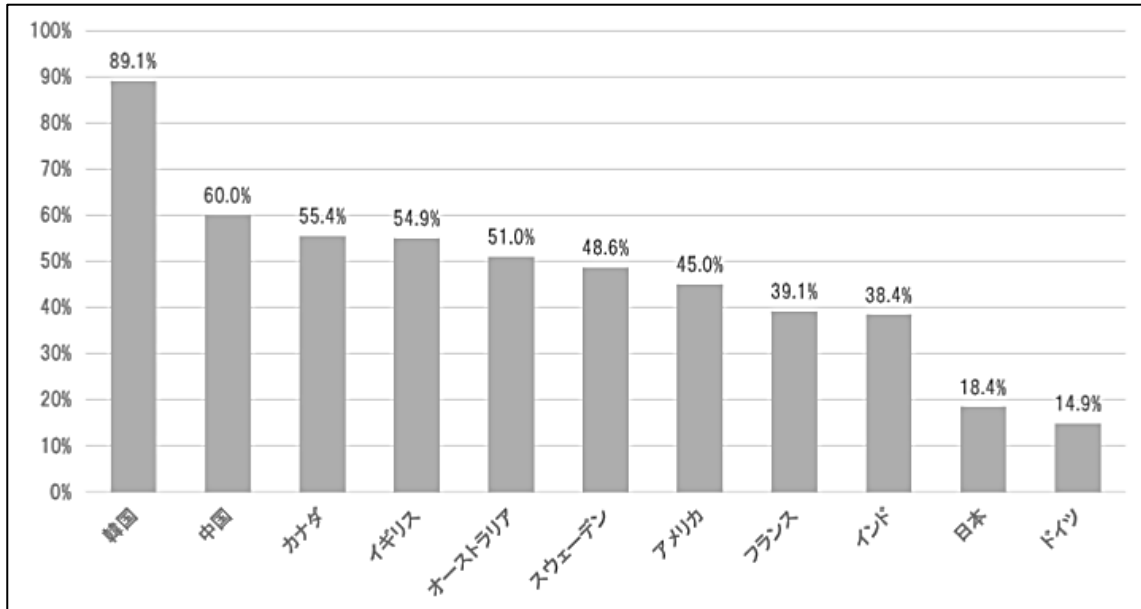
- 1 問題は  から  までで、2ページにわたって印刷してあります。
- 2 検査時間は50分で、終わりは午前9時40分です。
- 3 声を出して読むではいけません。
- 4 答えは全て解答用紙に明確に記入し、解答用紙だけを提出しなさい。
- 5 答えを直すときは、きれいに消してから、新しい答えを書きなさい。
- 6 答えは横書きで1マス目から書き始め、段落分けや1マス目空きはしないこと。
- 7 受検番号を解答用紙の決められた欄に記入しなさい。

1

紙幣や硬貨など現金を使用しないで支払いを行う方法をキャッシュレス決済という。

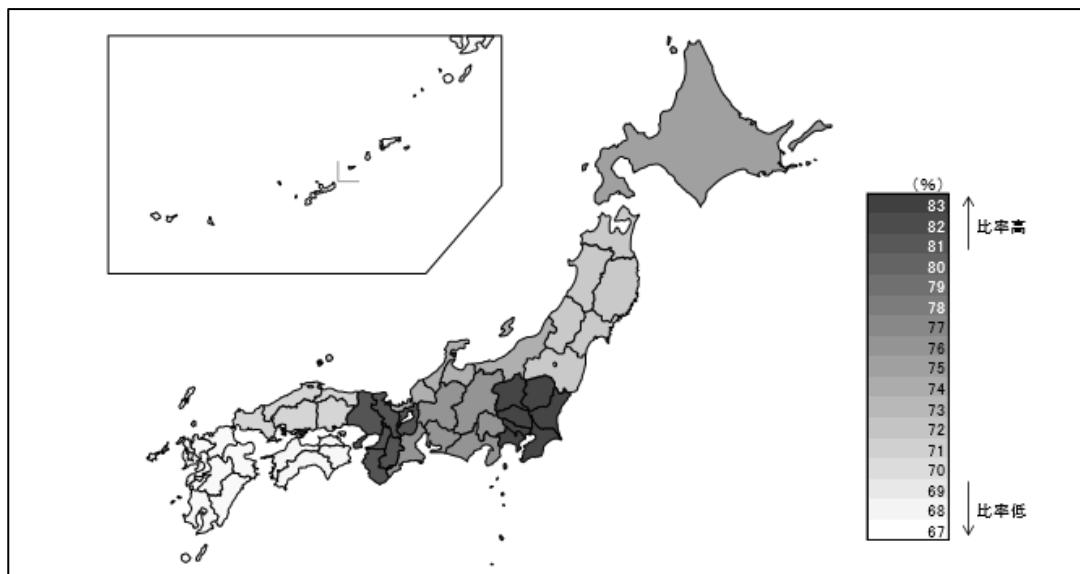
次の図表1と図表2はそれぞれ「各国のキャッシュレス決済比率の状況」と「日本におけるキャッシュレス決済の地域別利用比率」を表している。

図表1 各国のキャッシュレス決済比率の状況 (2015年)



(出典) 経済産業省「キャッシュレスビジョン」より

図表2 日本におけるキャッシュレス決済の地域別利用比率 (2018年)



(出典) 日銀決済機構局「キャッシュレス決済の現状」より

問1 図表1と図表2から読みとれることを100字以上200字以内でまとめなさい。

問2 キャッシュレス決済のメリットとデメリットを挙げた上で、キャッシュレス決済の広まりについて、あなたの考えを150字以上250字以内で述べなさい。

次の**図表 3**は「男女別平均寿命の推移」を表している。

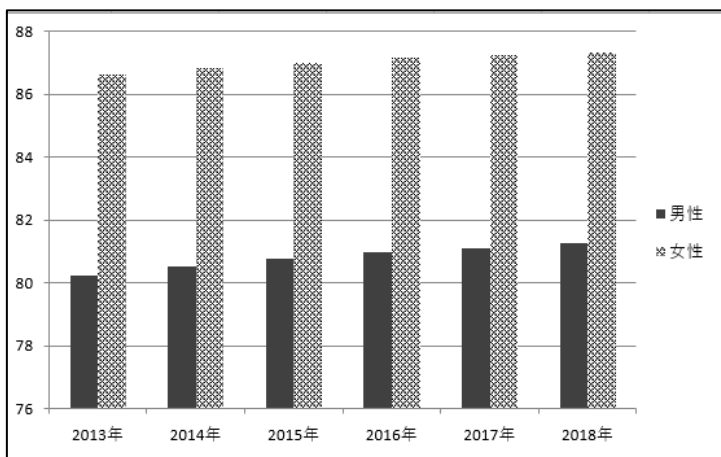
**図表 3 男女別平均寿命の推移**

性別 \ 年	2013年	2014年	2015年	2016年	2017年	2018年
男性	80.21	80.50	80.75	80.98	81.09	81.25
女性	86.61	86.83	86.99	87.14	87.26	87.32

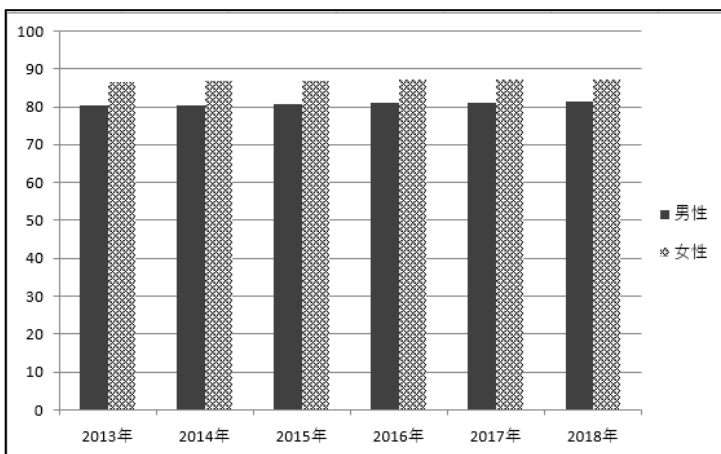
(出典) 総務省「日本の統計」および厚生労働省「平成 30 年簡易生命表」より作成

**図表 3**を基にAさんとBさんがそれぞれ次の**図表 4**と**図表 5**のグラフを作成した。

**図表 4 Aさんが作成したグラフ**



**図表 5 Bさんが作成したグラフ**



**問** 同じデータを使用したにもかかわらず、2つのグラフは異なる表示となった。このような違いが起きた原因を指摘した上で、グラフを作成するとき、あるいは作成されたグラフを見るときに留意しなければならないことは何か、あなたの考えを 200 字以上 400 字以内で述べなさい。