

平成28年度 推薦に基づく入学者選抜

小論文

- 1 問題は1問で、3ページにわたって問題が印刷してあり、4ページ目は「メモ欄」になっています。よく読んで600字以内で小論文を記述しなさい。
- 2 検査時間は60分で、終わりは10時00分です。
- 3 声を出して読むはいけません。
- 4 小論文はすべて定められた解答用紙に明確に横書きで記述し、解答用紙だけを提出しなさい。
- 5 文章を直すときは、きれいに消してから、新しい文章を書きなさい。
- 6 受検番号を解答用紙の決められた欄に記入しなさい。

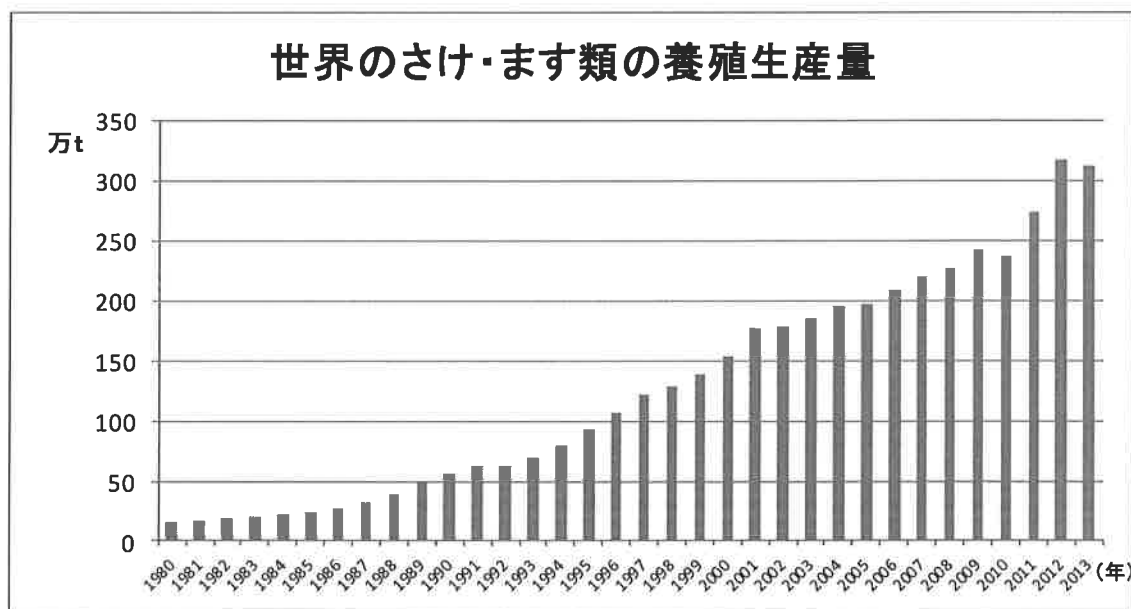
東京都立大島海洋国際高等学校

次の文章を読んで、後の問いに答えなさい。

『平成 26 年度国際漁業資源の現況 56 さけ・ます類の漁業と資源調査（総説）』によると、「近年では養殖によるさけ・ます類の生産量の増加が著しい」との指摘がある。【資料 A】によると、2012 年の世界のさけ・ます類の養殖生産量は 300 万トンを超えている。

（『平成 26 年度国際漁業資源の現況 56 さけ・ます類の漁業と資源調査（総説）』
水産庁・水産総合研究センター 2015 の内容をもとに作成）

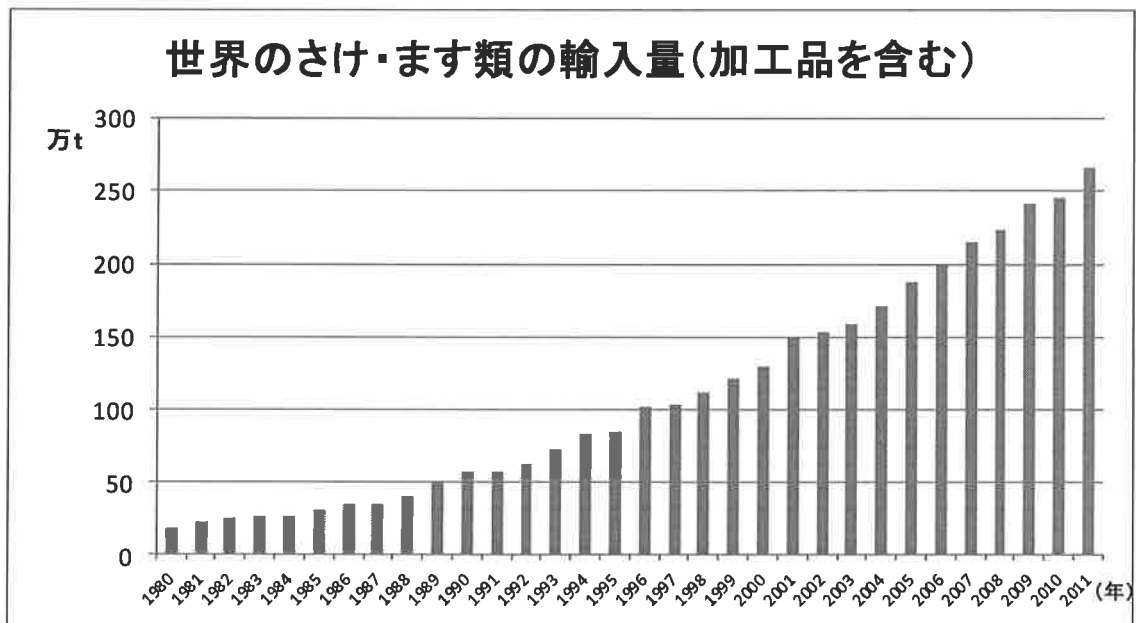
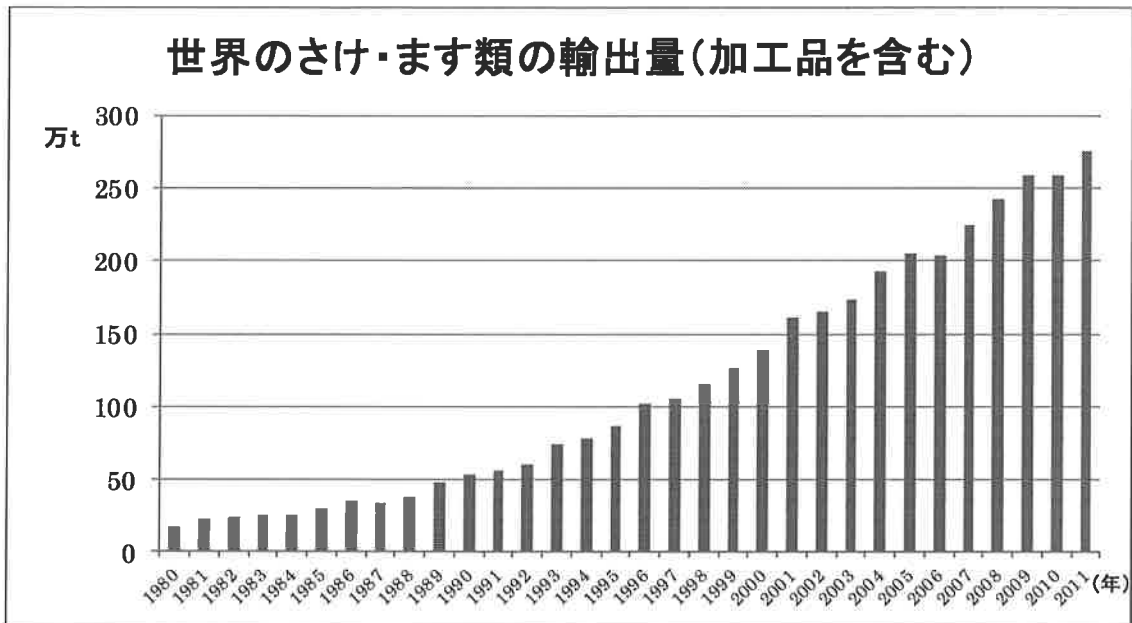
【資料 A】



資料:FAO「Fishstat (Aquaculture Production) 2015」

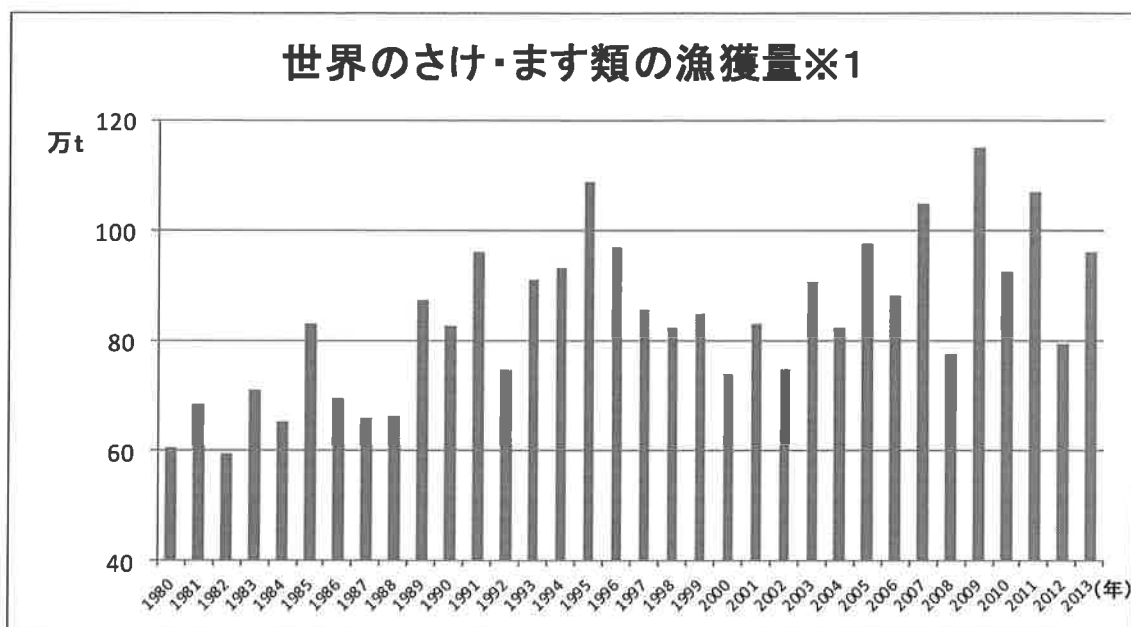
【問】世界のさけ・ます類の養殖生産量が増加してきている理由について、【資料①～③】をもとに、あなたの考えを600字以内で論じなさい。

【資料①】



資料 : FAO 「Fishstat (Fisheries Commodities production and trade) 2014」

【資料②】



※1 漁獲量 … 養殖以外で得た水産物の量

資料 : FAO 「Fishstat (Capture Production) 2015」

【資料③】

さけ・ます魚類に関わる規制について

発効年	条約名	規制区域	規制対象	内容
1982年	北大西洋におけるさけの保存のための条約	領海基線から12海里以遠水域※1	タイセイヨウサケ	原則として漁獲禁止
1993年	北太平洋における遡河性魚類の系群の保存のための条約 (NPAFC条約)	北緯33度以北の北太平洋公海※2	さけ・ます類	原則として漁獲禁止

※1 領海基線から12海里以遠水域 … 領海の外側にある水域のこと

※2 公海 … 特定の国の主権に服さず、各国が自由に使用・航行できる海のこと