

# 平成27年度 推薦に基づく入学者選抜

## 小論文

- 1 問題は1問で、4ページにわたって印刷してあります。よく読んで600字以内で小論文を記述しなさい。
- 2 検査時間は60分で、終わりは10時00分です。
- 3 声を出して読むではいけません。
- 4 小論文はすべて定められた解答用紙に明確に横書きで記述し、解答用紙だけを提出しなさい。
- 5 文章を直すときは、きれいに消してから、新しい文章を書きなさい。
- 6 受検番号を解答用紙の決められた欄に記入しなさい。

1	2	3	4	5
6	7	8	9	10
11	12	13	14	15
16	17	18	19	20
21	22	23	24	25
26	27	28	29	30
31	32	33	34	35
36	37	38	39	40

東京都立大島海洋国際高等学校

次の文章を読んで、後の問いに答えなさい。

世界では、人口1人当たり毎日2868カロリーを摂取(注1)できる量の農産物が生産されている。これは、国連の世界食糧計画が推奨(注2)している1日の摂取量2100カロリーを、大幅に上回る量だ。世界全体で平均すれば食料は足りているはずなのだが、個々の国を見ると、そうとも限らない。(※)

栄養不足の状態にある人の数は世界で8億500万人。なぜ、これほど多くの人々が飢えに苦しんでいるのか。

(『ナショナルジオグラフィック日本版』2014年11月号より)

〈注1〉摂取・・・取り入れて自分のものとする事。

〈注2〉推奨・・・人にすすめる事。

(※) 下の表を見ると、飢えに苦しんでいる人がいる国や地域が実際にあることがわかる。

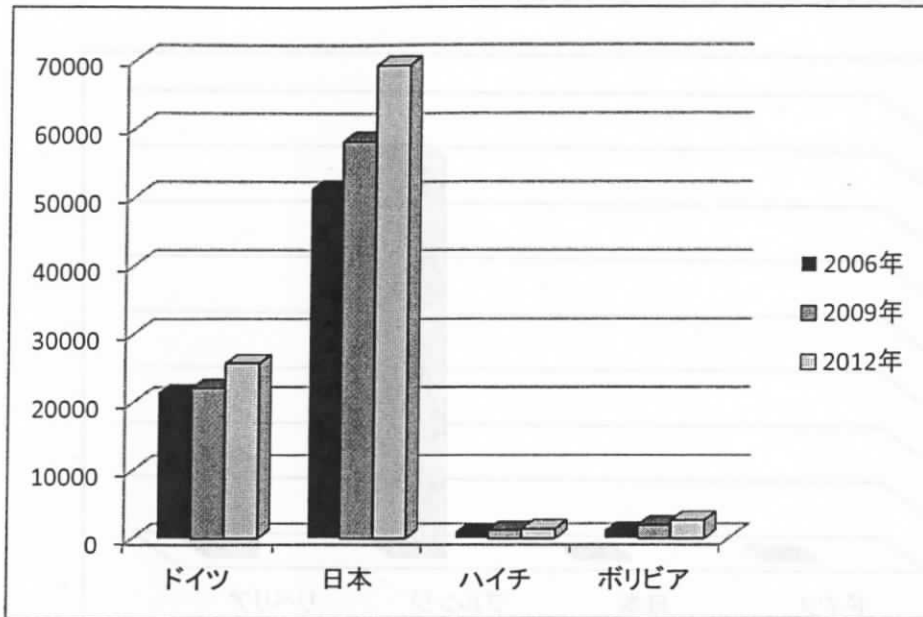
総人口に占める栄養不足人口の割合

地域名	国名	2004年-2006年	2007年-2009年	2010年-2012年
中米	ハイチ	53.5	46.8	44.5
南米	ボリビア	29.1	27.5	24.1
アジア	バングラデシュ	15.1	16.1	16.8
	ネパール	21.7	20.1	18.0
アフリカ	ブルンジ	67.9	72.4	73.4
	リベリア	29.6	29.6	31.4
	ケニア	32.9	32.4	30.4

単位:% 出典:世界の食料不安の現状2012年報告 JAICAF

【問】下線部「なぜ、これほど多くの人々が飢えに苦しんでいるのか。」とありますが、飢えに苦しんでいる人々が多くいる原因としてどのようなことが考えられますか。2～3ページに挙げる資料①～④をふまえて、あなたの考えを600字以内で論じなさい。

① 農業生産額

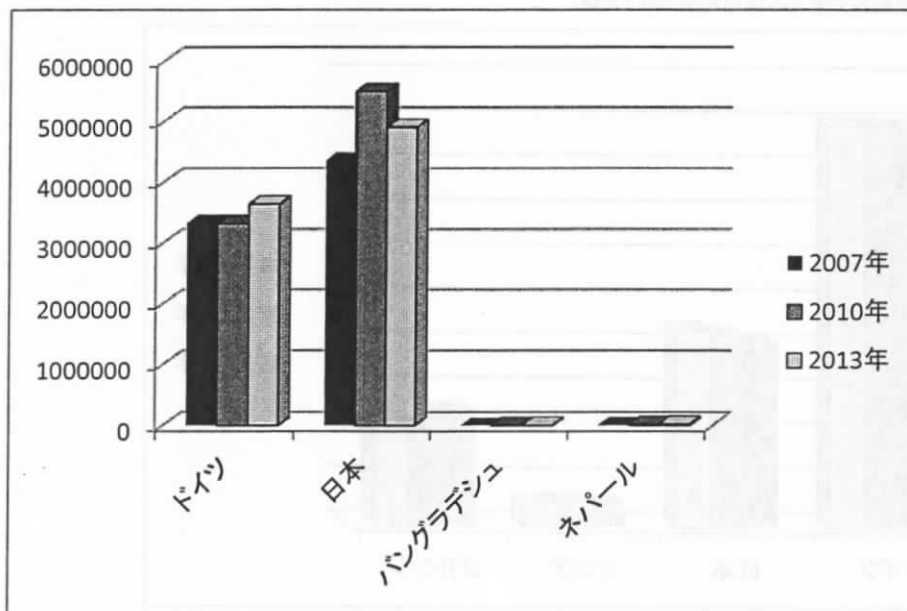


単位: 百万USD

資料: GLOBAL NOTE 出典: 国際連合

② 名目GDP

(名目GDP(名目国内総生産)とは、対象国で、1年間に新しく生みだされた生産物やサービスの金額の総和のこと。)

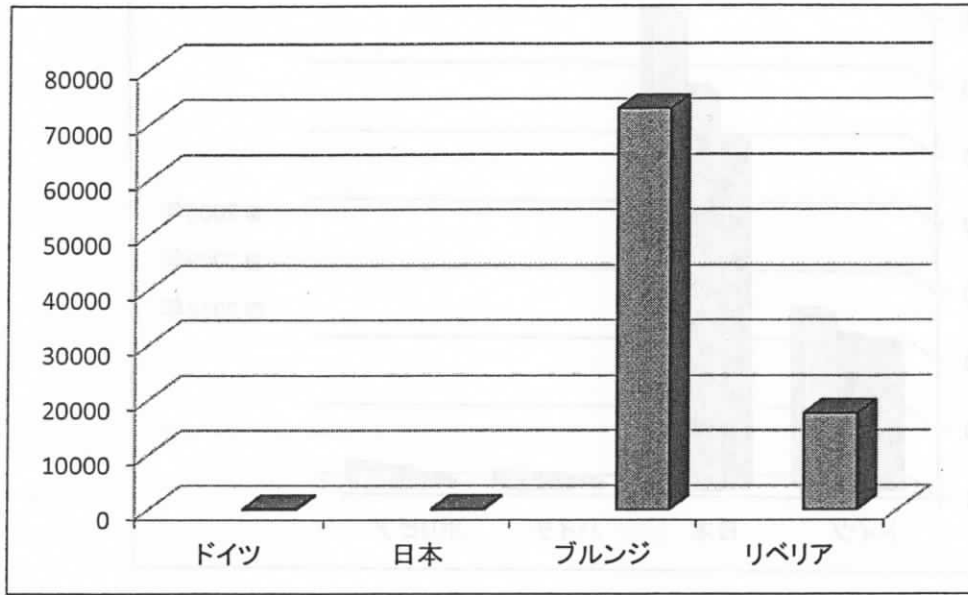


単位: 百万USD

資料: GLOBAL NOTE 出典: 国際通貨基金

③ 難民数 出身国別 (2013年)

(難民とは、戦争・天災などのために困難におちいった人民のこと。)

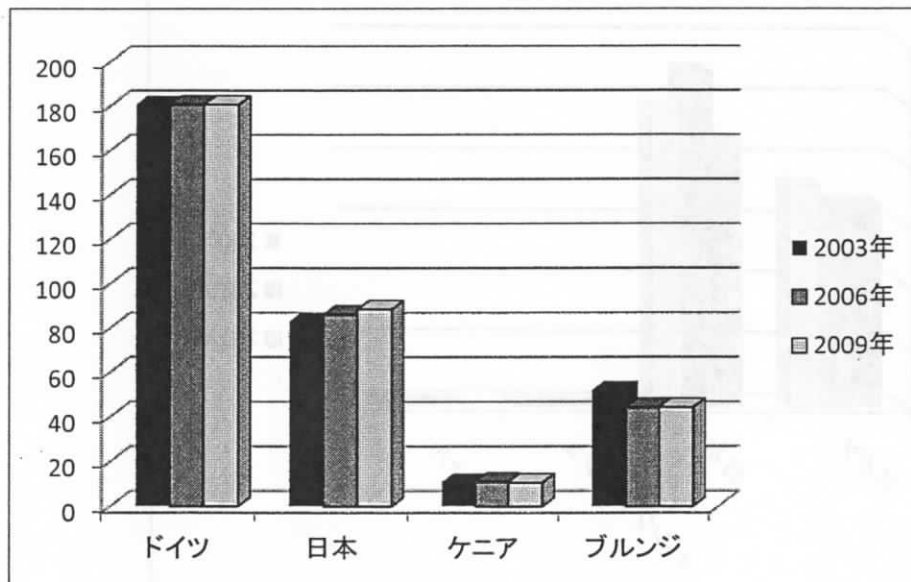


単位:人

出典:国連難民高等弁務官事務所

④ 道路密度

(国内の道路の総延長を国土の陸地面積で割った値)



単位:km/100km<sup>2</sup>

(百平方キロ当たりの道路の長さ)

資料:GLOBAL NOTE 出典:世界銀行