

# 解答用紙 適性検査Ⅱ

受 検 番 号

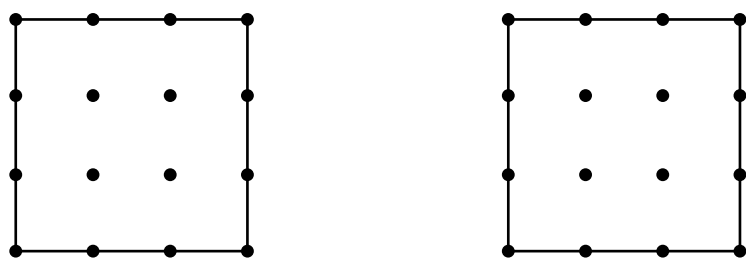
得 点
※

※のらんには、記入しないこと

1

〔問題1〕

並べ方は、なら 図1、図2で示された1通り以外に全部で〔 〕通りある。



※

〔問題2〕

決めた直径〔 〕cm	求めた円周率〔 〕
〔説明〕	

※

〔問題3〕


必要な色画用紙の枚数は〔 まいすう 〕枚になる。

〔説明〕

※

2



〔問題1〕



〔問題2〕

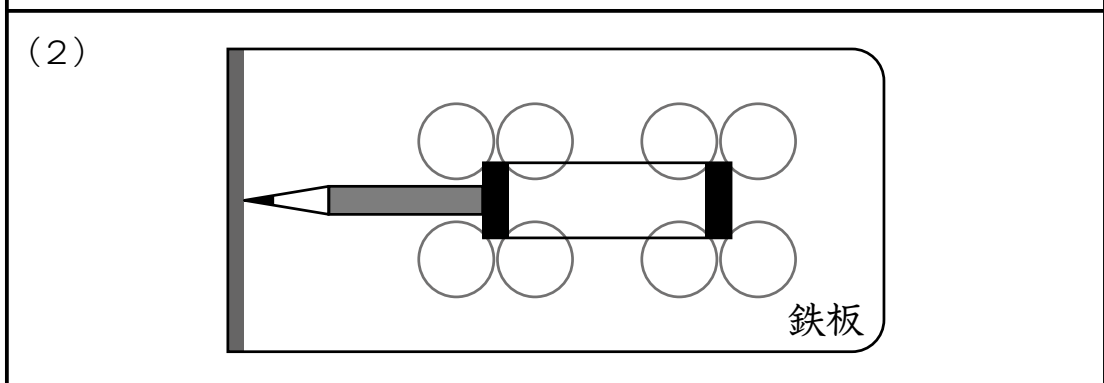
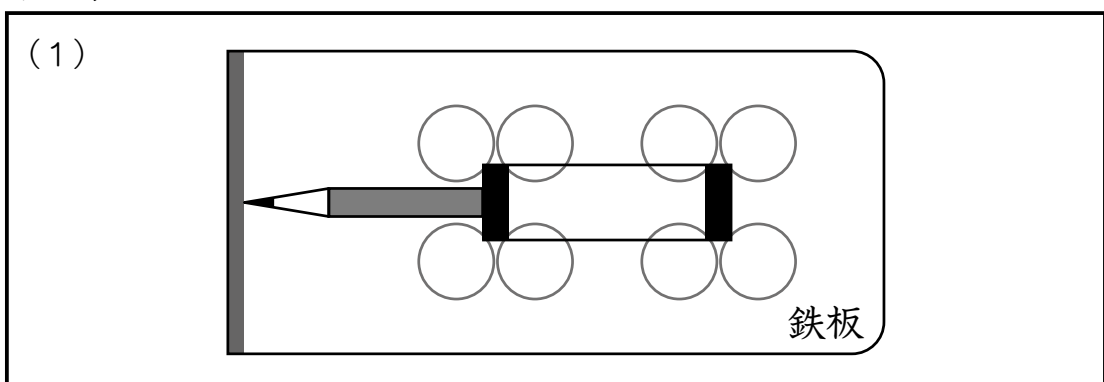
(選んだ二つを○で囲みなさい。)

図3                  図4                  図5



3

〔問題1〕



〔理由〕

※

〔問題2〕

(1) 個

(2) 〔大きい場合〕

〔理由〕

※